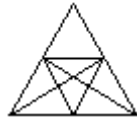


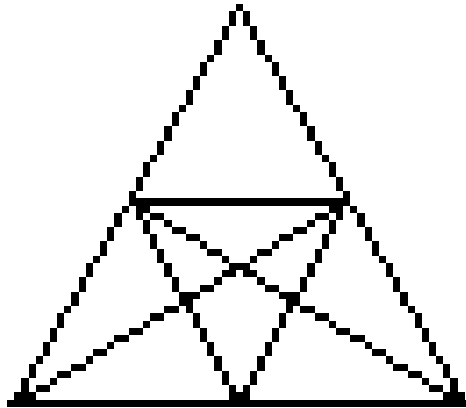
# MATHEMATIK



## Dreiecke

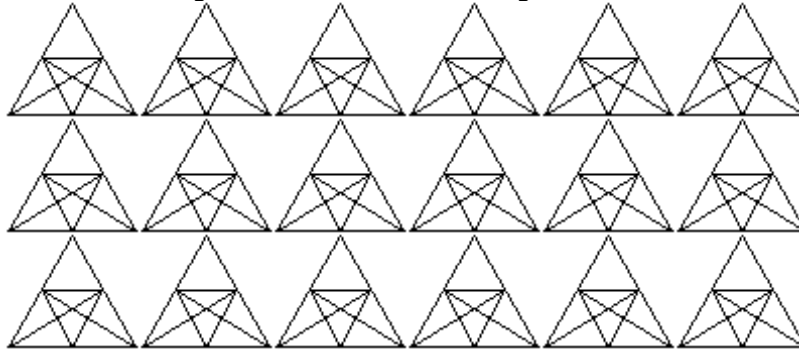
### Aufgaben:

- 1) Wie viele Dreiecke enthält die Figur?
- 2) Wie viele verschiedene Dreiecke gibt es?



### Tipp:

Verwende die folgenden Dreiecke als Lösungshilfe:



Abgabe der Lösungen bis zum **09.12.2016**  
**NAME(n)** und **KLASSE** nicht vergessen!!!!